

## 中國文化大學 99 學年度轉學招生考試

系組：國際貿易學系三年級

日期節次：7 月 28 日第 4 節 15:20-16:40

科目：統計學 (39-169)

- 請注意：1.未寫計算過程，不計分  
2.請寫出最終之計算結果，否則扣該題 20%之分數  
3.請計算到小數第 2 位  
4.可使用非工程型之計算機

- 一、 以下資料是 9 個男性樣本之憋氣最長時間，以秒為計算單位。 $X = \{ 30, 35, 55, 65, 35, 40, 55, 65, 55 \}$ 。
- 1.請計算此一樣本之平均數(sample mean) (5 分)與變異數(sample variance)。(10 分)。
  - 2.若男性之憋氣時間的母體分配為常態分配(normal distribution)，請以上述之樣本，估計樣本平均數( $\bar{X}$ )之抽樣分配的型態。(10 分)
- 二、 消費者基金會抽查市面上兩種品牌之飲料的容量，在顯著水準為 0.05 時檢定 A 品牌之平均容量( $\mu_A$ )是否顯著高於 B 品牌之平均容量( $\mu_B$ )。今自兩種品牌各隨機抽取 25 個樣本。第一個品牌之樣本平均數為 22.5，變異數為 4.04。第二個品牌之樣本平均數為 21.88，變異數為 4.87。假設兩個母體之容量均呈常態分配，且母體之變異數相等。
- 1.請列出統計假說(statistical hypothesis)。(10 分)
  - 2.請以信賴區間檢定上述假說。(15 分)
- 三、 某一飲料商(A)想檢定其市場佔有率是否均為其他兩家廠商(B 與 C)的兩倍，亦即，此三家廠商之市場佔有率的比例是否為 A:B:C=2:1:1。今自市場中隨機抽取 100 位消費者，發現其中是 A、B、C 廠商的消費者分別為 50、15、35 人。
- 1.請列出統計假說(statistical hypothesis)。(10 分)
  - 2.請以  $\alpha = 0.05$  進行檢定。(15 分)
- 四、 某一市調公司在北、中、南三區共隨機抽取 123 位消費者，以單因子變異數(one-way ANOVA)分析三區之消費者在某一產品之購買量是否有差異。F 檢定的結果顯示，總誤差平方和(SST)=1280，組內誤差平方和(SSW)=1230。
- 1.請寫出 ANOVA 分析表(10 分)，
  - 2.請以顯著水準  $\alpha = 0.1$ ，檢定北、中、南三區之購買量總體而言是否有顯著差異？(15 分)

本試題採  
雙面印刷

第 / 頁共 2 頁

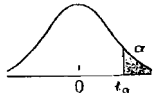
中國文化大學 99 學年度轉學招生考試

系組：國際貿易學系三年級

日期節次：7 月 28 日第 4 節 15:20-16:40

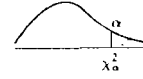
科目：統計學 (39-169)

表 5  $t$ -分配右尾百分點  $t_{\alpha}(d.f.)$



d.f.	$\alpha$					
	.25	.1	.05	.025	.01	.005
1	1.000	3.078	6.314	12.706	31.821	63.657
2	.816	1.886	2.920	4.303	6.965	9.925
3	.765	1.638	2.353	3.182	4.541	5.841
4	.741	1.533	2.132	2.776	3.747	4.604
5	.727	1.476	2.015	2.571	3.365	4.032
6	.718	1.440	1.943	2.447	3.143	3.707
7	.711	1.415	1.895	2.365	2.998	3.499
8	.706	1.397	1.860	2.306	2.896	3.355
9	.703	1.383	1.833	2.262	2.821	3.250
10	.700	1.372	1.812	2.228	2.764	3.169
11	.697	1.363	1.796	2.201	2.718	3.106
12	.695	1.356	1.782	2.179	2.681	3.055
13	.694	1.350	1.771	2.160	2.650	3.012
14	.692	1.345	1.761	2.145	2.624	2.977
15	.691	1.341	1.753	2.131	2.602	2.947
16	.690	1.337	1.746	2.120	2.583	2.921
17	.689	1.333	1.740	2.110	2.567	2.898
18	.688	1.330	1.734	2.101	2.552	2.878
19	.688	1.328	1.729	2.093	2.539	2.861
20	.687	1.325	1.725	2.086	2.528	2.845
21	.686	1.323	1.721	2.080	2.518	2.831
22	.686	1.321	1.717	2.074	2.508	2.819
23	.685	1.319	1.714	2.069	2.500	2.807
24	.685	1.318	1.711	2.064	2.492	2.797
25	.684	1.316	1.708	2.060	2.485	2.787
26	.684	1.315	1.706	2.056	2.479	2.779
27	.684	1.314	1.703	2.052	2.473	2.771
28	.683	1.313	1.701	2.048	2.467	2.763
29	.683	1.311	1.699	2.045	2.462	2.756
30	.683	1.310	1.697	2.042	2.457	2.750
40	.681	1.303	1.684	2.021	2.425	2.704
60	.679	1.296	1.671	2.000	2.390	2.660
120	.677	1.289	1.658	1.980	2.358	2.617
$\infty$	.674	1.282	1.645	1.960	2.326	2.576

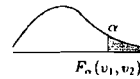
表 6  $\chi^2$  分配右尾百分點  $\chi_{\alpha}^2(d.f.)$



d.f.	$\alpha$							
	.995	.990	.975	.950	.900	.850	.800	.750
1	$392.704 \times 10^{-10}$	$15.708 \times 10^{-9}$	$982.069 \times 10^{-9}$	$393.214 \times 10^{-8}$	3.84146	5.02389	6.63490	7.87944
2	.010251	.0201007	.0506356	.102587	5.99147	7.37776	9.21034	10.5966
3	.0717212	.14832	.215795	.351846	7.81473	9.34840	11.3449	12.8381
4	.206990	.297110	.484419	.710721	9.48773	11.1433	13.2767	14.8602
5	.411740	.554300	.831211	1.145476	11.0705	12.8325	15.0863	16.7496
6	.675727	.872085	1.237347	1.63539	12.5916	14.4494	16.8119	18.5476
7	.989265	1.239043	1.68987	2.16735	14.0671	16.0128	18.4753	20.2777
8	1.344419	1.646482	2.17973	2.75264	15.5073	17.5346	20.0902	21.9550
9	1.734926	2.087912	2.70039	3.32511	16.9190	19.0228	21.6660	23.5893
10	2.15585	2.55821	3.24697	3.94030	18.3070	20.4831	23.2093	25.1882
11	2.60321	3.05347	3.81575	4.57481	19.6751	21.9200	24.7250	26.7569
12	3.07382	3.57056	4.40379	5.22603	21.0261	23.3367	26.2170	28.2995
13	3.56503	4.10691	5.00874	5.89186	22.3621	24.7356	27.6883	29.8194
14	4.07468	4.66043	5.62872	6.57063	23.6848	26.1190	29.1413	31.3195
15	4.60994	5.22935	6.26214	7.26094	24.9958	27.4884	30.5779	32.8013
16	5.14224	5.81221	6.90766	7.96164	26.2962	28.8454	31.9999	34.2672
17	5.69724	6.40776	7.56418	8.67176	27.5871	30.1910	33.4087	35.7185
18	6.26481	7.01491	8.23075	9.39046	28.8693	31.5264	34.8053	37.1564
19	6.84398	7.63273	8.90655	10.1170	30.1435	32.8523	36.1908	38.5822
20	7.43386	8.26040	9.59083	10.8508	31.4104	34.1696	37.5662	39.9968
21	8.03366	8.89720	10.28293	11.5913	32.6705	35.4789	38.9321	41.4010
22	8.64272	9.54249	10.9823	12.3380	33.9244	36.7807	40.2894	42.7956
23	9.26042	10.19567	11.6885	13.0905	35.1725	38.0757	41.6384	44.1813
24	9.88623	10.8564	12.4011	13.8484	36.4151	39.3641	42.9798	45.5585
25	10.5197	11.5240	13.1197	14.6114	37.6525	40.6465	44.3141	46.9278
26	11.1603	12.1981	13.8439	15.3791	38.8852	41.9232	45.6417	48.2899
27	11.8076	12.8786	14.5733	16.1513	40.1133	43.1944	46.9630	49.6449
28	12.4613	13.5648	15.3079	16.9279	41.3372	44.4607	48.2782	50.9933
29	13.1211	14.2565	16.0471	17.7083	42.5569	45.7222	49.5879	52.3356
30	13.7867	14.9535	16.7908	18.4926	43.7729	46.9792	50.8922	53.6720
40	20.7065	22.1643	24.4331	26.5093	55.7585	59.3417	63.6907	66.7659
50	27.9907	29.7067	32.3574	34.7642	67.5048	71.4202	76.1539	79.4900
60	35.5346	37.4848	40.4817	43.1879	79.0819	83.2976	88.3794	91.9517
70	43.2752	45.4418	48.7576	51.7393	90.5312	95.0231	100.425	104.215
80	51.1720	53.5400	57.1522	60.3945	101.879	106.629	112.329	116.321
90	59.1963	61.7541	65.6466	69.1260	113.145	118.136	124.116	128.299
100	67.3276	70.0648	74.2219	77.9295	124.342	129.561	135.807	140.169

表 7  $F$  分配右尾百分點  $F_{\alpha}(v_1, v_2)$

$\alpha = 0.10$



$v_2$	$v_1$								
	1	2	3	4	5	6	7	8	9
1	39.864	49.500	53.593	55.833	57.241	58.204	58.906	59.439	59.858
2	8.5263	9.0000	9.1618	9.2434	9.2926	9.3255	9.3491	9.3668	9.3805
3	5.5383	5.4624	5.3908	5.3427	5.3092	5.2847	5.2662	5.2517	5.2400
4	4.5448	4.3246	4.1908	4.1073	4.0506	4.0098	3.9790	3.9549	3.9357
5	4.0604	3.7797	3.6195	3.5202	3.4530	3.4045	3.3679	3.3393	3.3163
6	3.7760	3.4633	3.2888	3.1808	3.1075	3.0546	3.0145	2.9830	2.9577
7	3.5894	3.2574	3.0741	2.9605	2.8833	2.8274	2.7849	2.7516	2.7247
8	3.4579	3.1131	2.9238	2.8064	2.7265	2.6683	2.6241	2.5893	2.5612
9	3.3603	3.0065	2.8129	2.6927	2.6106	2.5509	2.5053	2.4694	2.4403
10	3.2850	2.9245	2.7277	2.6053	2.5216	2.4606	2.4140	2.3772	2.3473
11	3.2252	2.8595	2.6602	2.5362	2.4512	2.3891	2.3416	2.3040	2.2735
12	3.1765	2.8068	2.6055	2.4801	2.3940	2.3310	2.2828	2.2446	2.2135
13	3.1362	2.7632	2.5603	2.4337	2.3467	2.2830	2.2341	2.1953	2.1638
14	3.1022	2.7265	2.5222	2.3947	2.3069	2.2426	2.1931	2.1539	2.1220
15	3.0732	2.6952	2.4898	2.3614	2.2730	2.2081	2.1582	2.1185	2.0862
16	3.0481	2.6682	2.4618	2.3327	2.2438	2.1783	2.1280	2.0880	2.0553
17	3.0262	2.6446	2.4374	2.3077	2.2183	2.1524	2.1017	2.0613	2.0284
18	3.0070	2.6239	2.4160	2.2858	2.1958	2.1296	2.0785	2.0379	2.0047
19	2.9899	2.6056	2.3970	2.2663	2.1760	2.1094	2.0580	2.0171	1.9836
20	2.9747	2.5893	2.3801	2.2489	2.1582	2.0913	2.0397	1.9985	1.9649
21	2.9609	2.5746	2.3649	2.2333	2.1423	2.0751	2.0232	1.9819	1.9480
22	2.9486	2.5613	2.3512	2.2193	2.1279	2.0605	2.0084	1.9668	1.9327
23	2.9374	2.5493	2.3387	2.2065	2.1149	2.0472	1.9949	1.9531	1.9189
24	2.9271	2.5383	2.3274	2.1949	2.1030	2.0351	1.9826	1.9407	1.9063
25	2.9177	2.5283	2.3170	2.1843	2.0922	2.0241	1.9714	1.9292	1.8947
26	2.9091	2.5191	2.3075	2.1745	2.0822	2.0139	1.9610	1.9188	1.8841
27	2.9012	2.5106	2.2987	2.1655	2.0730	2.0045	1.9515	1.9091	1.8743
28	2.8939	2.5028	2.2906	2.1571	2.0645	1.9959	1.9427	1.9001	1.8652
29	2.8871	2.4955	2.2831	2.1494	2.0566	1.9878	1.9345	1.8918	1.8560
30	2.8807	2.4887	2.2761	2.1422	2.0492	1.9803	1.9269	1.8841	1.8498
40	2.8354	2.4404	2.2261	2.0909	1.9968	1.9269	1.8725	1.8289	1.7929
60	2.7914	2.3932	2.1774	2.0410	1.9457	1.8747	1.8194	1.7748	1.7380
120	2.7478	2.3473	2.1300	1.9923	1.8959	1.8238	1.7675	1.7220	1.6843
$\infty$	2.7055	2.3026	2.0838	1.9449	1.8473	1.7741	1.7167	1.6702	1.6315

本試題採  
雙面印刷

第 2 頁共 2 頁